



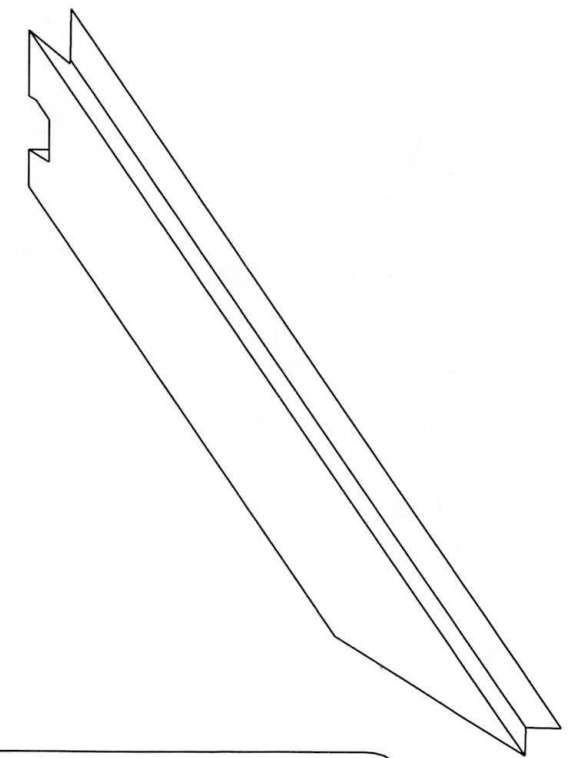
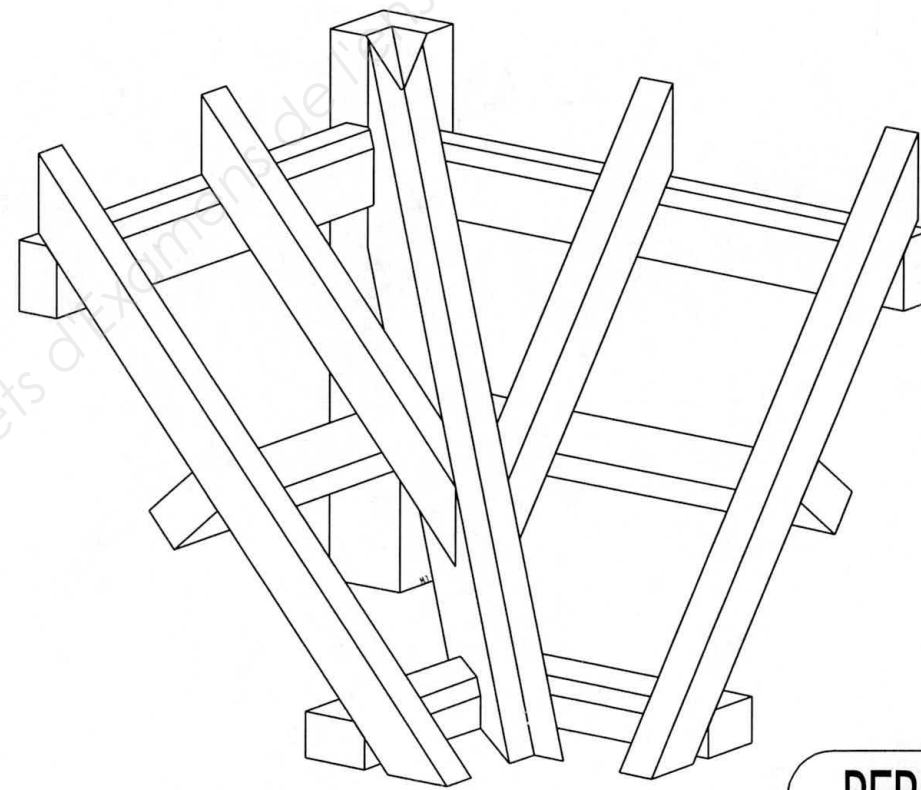
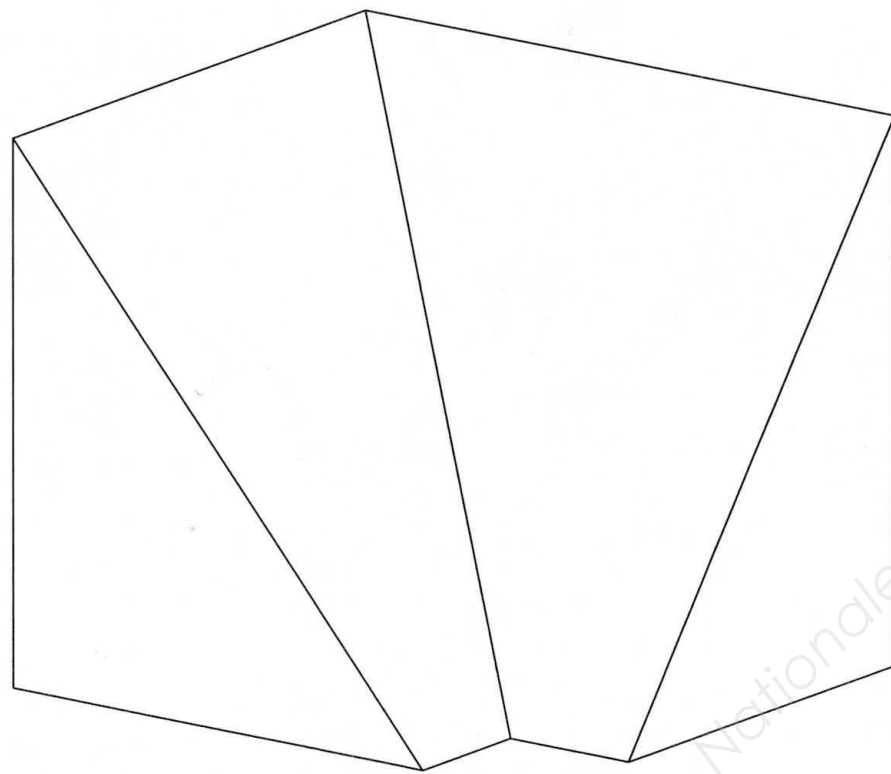
**LE RÉSEAU DE CRÉATION
ET D'ACCOMPAGNEMENT PÉDAGOGIQUES**

**Ce document a été mis en ligne par le Canopé de l'académie de Clermont- Ferrand
pour la Base Nationale des Sujets d'Examens de l'enseignement professionnel.**

Ce fichier numérique ne peut être reproduit, représenté, adapté ou traduit sans autorisation.

CAP Charpentier Bois

EP3 Fabrication d'un ouvrage spécifique



PERSPECTIVE DE LA NOUE

CAP CHARPENTIER BOIS	CODE : 50 23439	SESSION 2014	
EPREUVE E.P.3. PRATIQUE	DUREE 7H	COEF 4	PAGE : 1/4

CAP Charpentier Bois

ELEVATION DU CHEVRON D'EMPRUNT

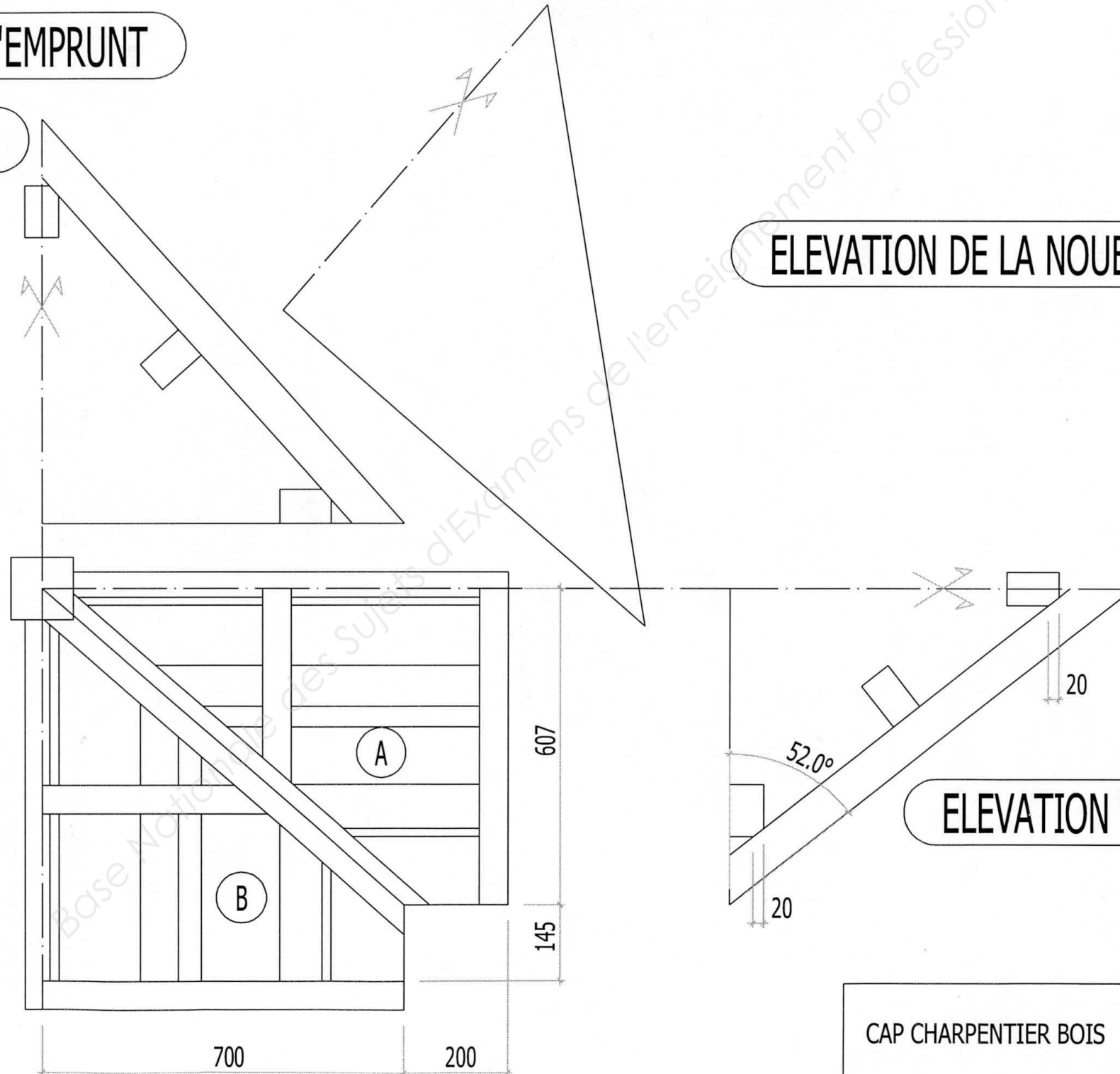
VERSANT B

ELEVATION DE LA NOUE

VUE EN PLAN

ELEVATION DU CHEVRON D'EMPRUNT

VERSANT A



CAP CHARPENTIER BOIS	CODE : 50 23439	SESSION 2014	
EPREUVE E.P.3. PRATIQUE	DUREE 7H	COEF 4	PAGE : 2/4

CAP Charpentier Bois

ON DONNE :

- _ Une perspective de l' ouvrage à réaliser.
- _ Vue en plan.
- _ L'élévation des C.E. versant A et B.
- _ Un débit de bois.
- _ Un descriptif du sujet.
- _ La pièce nécessaire pour la réalisation de l'ouvrage.

ON DEMANDE :

- _ De tracer l'épure du sujet :
(vue en plan, élévations des C.E., élévation de la noue)
- _ De tracer la vue par bout de la noue.
- _ De tracer l'emplacement des empanons et pannes sur la noue.

De tailler uniquement la noue.

- _ Un levage en concordance avec l'épure.

ON EXIGE :

- _ Une épure propre, précise, comportant tous les symboles du charpentier.
- _ Une taille propre et précise.
- _ Le respect des consignes de sécurité.
- _ Un abattage des arêtes.
- _ L' ouvrage doit être en concordance avec l'épure.
- _ Un marquage cohérent.

CAP CHARPENTIER BOIS	CODE : 50 23439	SESSION 2014	
EPREUVE E.P.3. PRATIQUE	DUREE 7H	COEF 4	PAGE : 3/4

